

課輔班級： 姓名： 分數：

一、選擇題：每題 2 分、共 8 分

() 1. $625 + 356 + 738$ 的答案是多

少？ (①1609 ②1619 ③1719)

() 2. 兔子跳一次可以跳 35 公

分，那麼跳五次可以跳多

遠？ (①40 ②165 ③175 ④185) 公

分

() 3. 將 6 個積木平分給 2 個小

朋友，除法算式要怎麼寫？ (①

 $26 \div 2$ ② $2 \div 6$ ③ $6 \div 2$ ④ 6×2)

() 4. 在除法的算式中，餘數一

定比除數如何？ (①大 ②小 ③

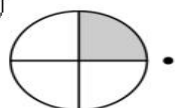
相等 ④不一定)

二、連連看：每格 2 分、共 8 分

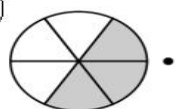
1. 塗色全部分是幾分之幾圓？連連

看：

(1)

• ㄉ. $\frac{3}{6}$ 圓

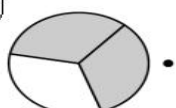
(2)

• ㄆ. $\frac{2}{3}$ 圓

(3)

• ㄓ. $\frac{1}{4}$ 圓

(4)

• ㄘ. $\frac{2}{5}$ 圓

三、畫畫看：共 3 分

1. 畫畫看，可以怎麼付錢？

用 1000、100、⑩和①畫出下面的錢

數。



四、應用題：每題 6 分、共 30 分

1. 平平有 158 張郵票，安安有 173

張郵票，兩人共有幾張郵票？把

做法用直式記下來。

2. 用 9、4、5、0 排成的最大四位数

和最小四位数相差多少？(數字

不能重複且 0 不可放千位)

3. 1 個蘋果賣 8 元，70 元可以買幾

個蘋果？剩下幾元？

4. 1 個披薩賣 50 元，買 5 個要幾元？

5. 1 盒鉛筆有 12 枝，小華有 $\frac{8}{12}$ 盒，

小英有 $\frac{11}{12}$ 盒，兩人共有幾盒鉛筆？

五、填填看看：每格 3 分、共 21 分

1. 有 $\frac{6}{8}$ 條巧克力，其中 $\frac{6}{8}$ 的分母是

()，分子是 ()。

也就是 1 條巧克力分成 ()

等分，占其中的 () 等分。

2. 1 包餅乾有 15 塊，媽媽吃了 8 塊，

剩下的被爸爸全吃掉，爸爸吃了

() 包，媽媽吃了 () 包，

兩人吃的餅乾相差 () 包。

六、計算題：每格 3 分、共 18 分

1. $142 + 136$

2. $8524 - 7562$

3. $6370 - 5849$

4. $0 \div 7$

5. $0.5 + 0.2$

6. $4.3 - 2$

七、比比看看：每格 3 分、共 12 分

在 \square 中填入 $>$ 、 $<$ 或 $=$ ：

(1) $245 \times 3 \square 147 \times 5$

(2) $162 \times 5 \square 165 \times 2$

(3) $72 \times 8 \square 64 \times 9$

(4) $300 \times 2 \square 300 \times 3$